

Thema: Ganzrationale Funktionen Grad n;
Horner-Schema; Nullstellen; Symmetrie

Name:

Bitte geben Sie Ansätze und Rechenwege an!

Punkte:

Note:

1.) Ganzrationale Funktionen - Koeffizienten

10

- a) Eine ganzrationale Funktion sei durch folgende Koeffizienten gegeben:
 $a_9 = -0,8$ $a_7 = 2$ $a_5 = a_3 = -4$ $a_2 = a_1 = a_0 = 2$
 Erstellen Sie die Funktionsvorschrift und geben Sie den Grad der Funktion an.

LÖSUNG: Grad $n = 9$ $f(x) = -0,8x^9 + 2x^7 - 4x^5 - 4x^3 + 2x^2 + 2x + 2$

- b) Bestimmen Sie **Grad**, **Nullstellen** und a_0 bei folgender Funktion:

$$f(x) = (x^4 - 16) \left(2x^3 + \frac{1}{4} \right) (x^2 - 9)$$

LÖSUNG: Grad $n = 9$ Nullstellen: $x \in \left\{ \pm 2; \pm 3; -\frac{1}{2} \right\}$ $a_0 = 36$

2.) Symmetrie

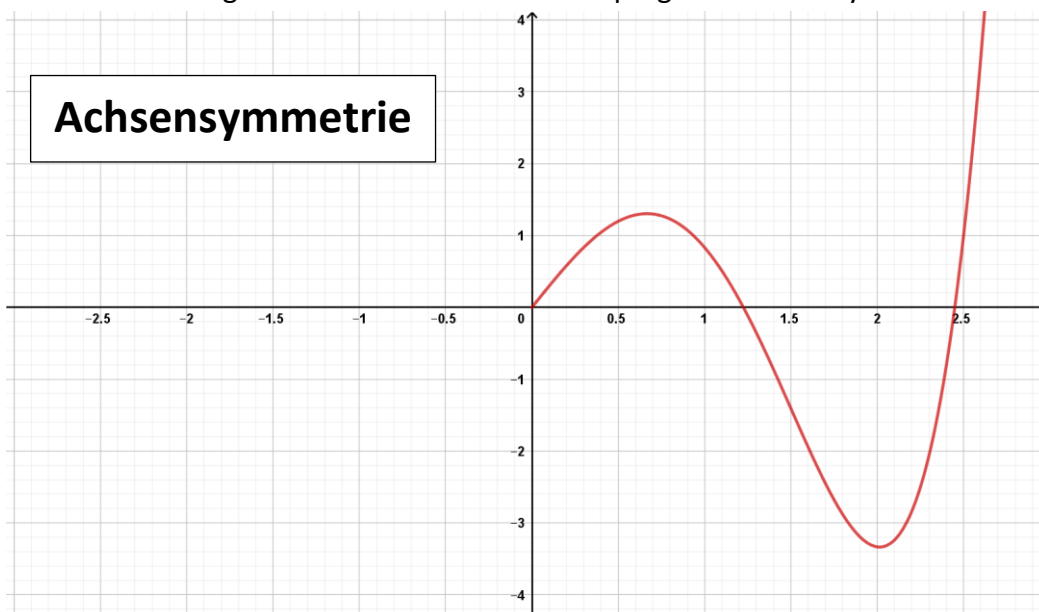
10

- a) Geben Sie eine punkt- und eine achsensymmetrische Funktion an und begründen anhand Ihrer Beispiele, warum die entsprechende Symmetrie vorliegt.

LÖSUNG: Achsensymmetrie $f(x) = \sum_{k=0}^n a_{2k} x^{2k}$ Bedingung: $f(-x) = f(x)$

Punktsymmetrie $f(x) = \sum_{k=0}^n a_{2k+1} x^{2k+1}$ Bedingung: $f(-x) = -f(x)$

- b) Vervollständigen Sie das Schaubild mit entspr. gewünschter Symmetrie:



3.) Horner-Schema

12	
----	--

- a) Bestimmen Sie den Funktionswert der Funktion

$f(x) = 2x^4 - 4x^3 + 3x^2 - 5x + 6$ an der Stelle $x = -2$
mit dem Horner-Schema.

LÖSUNG:

	2	-4	3	-5	6
$x = -2$		-4	16	-38	86
	2	-8	19	-43	92

- b) Bestimmen Sie den Funktionswert der Funktion

$g(x) = -x^5 + 5x^3 - 2x^2$ an der Stelle $x = 3$
mit dem Horner-Schema.

LÖSUNG:

	-1	0	5	-2	0	0
$x = 3$		-3	-9	-12	-42	-126
	-1	-3	-4	-14	-42	-126

- c) Oh je – hier soll das Horner-Schema verwendet werden, aber leider fehlen ein paar Koeffizienten.

Bitte vervollständigen Sie das Schema und führen Sie die Berechnungen durch.

LÖSUNG:

Wert Koeffizient	-5	6	$a_1 = 11$	$a_0 = -4$
$x = 2$		-10	-8	6
Ergebnis	-5	-4	3	2

4.) Nullstellen berechnen

20	
----	--

- Bestimmen Sie die Nullstellen folgender Funktionen

a) $f(x) = 10x^5 - 40x^4 + 10x^3 + 60x^2$

LÖSUNG:

$$f(x) = (10x^3 - 40x^2 + 10x + 60)x^2 = 0 \rightarrow x = 0 \text{ [doppelt]}$$

Horner – Schema :

10	-40	10	60	→ $x = -1$ →	$10x^2 - 50x + 60 = 0$	
$x = -1$	-10	50	-60		→ $\cdot 10$ →	$x^2 - 5x + 6 = 0$
	10	-50	60			$ x = \frac{5}{2} \pm \sqrt{\frac{25}{4} - 6} = \frac{5}{2} \pm \frac{1}{2}$

→ $x = 3$ → $x = 2$

$$b) \quad f(x) = 2(x-4)(x^2 + 2x - 3)$$

LÖSUNG:

$$f(x) = 2(x-4)(x^2 + 2x - 3) = 0 \rightarrow (x-4) = 0 \wedge (x^2 + 2x - 3) = 0$$

$$\rightarrow x = 4 \wedge |x| = -1 \pm \sqrt{1+3} = -1 \pm 2 \rightarrow x = 1 \wedge x = -3$$

$$c) \quad f(x) = x^3 - 5x^2 - 19x + 5x^2 - 30$$

LÖSUNG:

$$\rightarrow f(x) = x^3 - 19x - 30$$

Horner - Schema:

1	0	-19	-30	→	$x = -2$	→	$x^2 - 2x - 15 = 0$	$\xrightarrow{\text{pq-Formel}}$	$ x = 1 \pm \sqrt{1+15} = 1 \pm 4$
$x = -2$	-2	4	30						
1	-2	-15	0						

$$\rightarrow x = 5 \rightarrow x = -3$$

$$d) \quad f(x) = x^4 - 5x^2 + 4$$

LÖSUNG:

$$f(x) = x^4 - 5x^2 + 4 \xrightarrow{\text{Substitution}} u^2 - 5u + 4 = 0$$

$$\rightarrow |u| = \frac{5 \pm \sqrt{25 - 4}}{2} = \frac{5 \pm 3}{2} \rightarrow u_1 = 4 \wedge u_2 = 1 \rightarrow |x| = 2 \wedge |x| = 1$$

ZUSATZAUFGABE $f(x) = x^5 + 7x^4 - 2x^3 - 14x^2 + x + 7$

6	
---	--

LÖSUNG:

$$\rightarrow f(x) = x^5 + 7x^4 - 2x^3 - 14x^2 + x + 7$$

Horner - Schema:

1	7	-2	-14	1	7	→	$x = 1$
$x = 1$	1	8	6	-8	-7		
1	8	6	-8	-7	0		
$x = 1$	1	9	15	7	0	→	$x = 1$
1	9	15	7	0			
$x = -1$	-1	-8	-7	0			
1	8	7	0	0	0	→	$x = -1$
$x = -1$	-1	-8	-7	0			
1	8	7	0				

$$\rightarrow x^2 + 8x + 7 = 0 \xrightarrow{\text{pq-Formel}} |x| = -4 \pm \sqrt{16 - 7} = -4 \pm 3 \rightarrow x = 7 \rightarrow x = -1$$

5.) Rekonstruktion ganzrationaler Funktionen (Grundstruktur)

18	
----	--

Ermitteln Sie die Funktionsvorschrift der ganzrationalen Funktionen aufgrund der gegebenen Eigenschaften in der Linearfaktordarstellung

Funktion 1: Grad 4; Nullstelle $x = -1$, Nullstelle $x = 4$ (dreifach) und $P(1/4)$ **LÖSUNG:**

$$f(x) = c \cdot (x+1) \cdot (x-4)^3 \rightarrow f(1) = c \cdot (1+1) \cdot (1-4)^3 = 4 \rightarrow c \cdot 2 \cdot (-27) = 4 \rightarrow c = -\frac{2}{27}$$

Funktion 2: Grad 5; Nullstelle $x = 2$ (vierfach); Nullstelle $x = 3$ und $P(-1/16)$ **LÖSUNG:**

$$f(x) = c \cdot (x-2)^4 \cdot (x-3) \rightarrow f(-1) = c \cdot (-1-2)^4 \cdot (-1-3) = 16 \rightarrow c \cdot 81 \cdot (-4) = 16 \rightarrow c = -\frac{4}{81}$$

Funktion 3: Grad 4; $P(0/2)$; achsensymmetrisch und vier Nullstellen bei $x = \{-5; ???; 1; ???\}$ **LÖSUNG:**

$$f(x) = c \cdot (x+5) \cdot (x-5) \cdot (x-1) \cdot (x+1) \rightarrow f(0) = c \cdot (-25) \cdot (-1) = 2 \rightarrow c = \frac{2}{25}$$

6.) Anwendungen zu Quadratischen ganzrationalen Funktionen

10	
----	--

Der Querschnitt eines Schiffsrumpfs wird beschrieben durch: $b(x) = \frac{1}{10}x^2 - 2,4x + 8$

Die auf der Wasseroberfläche befindlichen Auflagepunkte des Schiffes sind C und D.

- Das Schiff durchquert eine Passage mit verschiedenen Untiefen. Die kleinste Untiefe hat laut Karte den Wert $u = 7$ m uNN. Wird das Schiff ohne Kollision die Untiefen durchqueren können?
- Berechnen Sie die Querschnittlänge direkt an der Meeresoberfläche (x -Achse).
- Wie hoch ragt das Schiff über die Meeresoberfläche heraus und wie breit (= Querschnittsbreite) ist an dieser Stelle?

LÖSUNG:

$$b(x) = \frac{1}{10}x^2 - 2,4x + 8 = 0 \rightarrow x^2 - 24x + 80 = 0$$

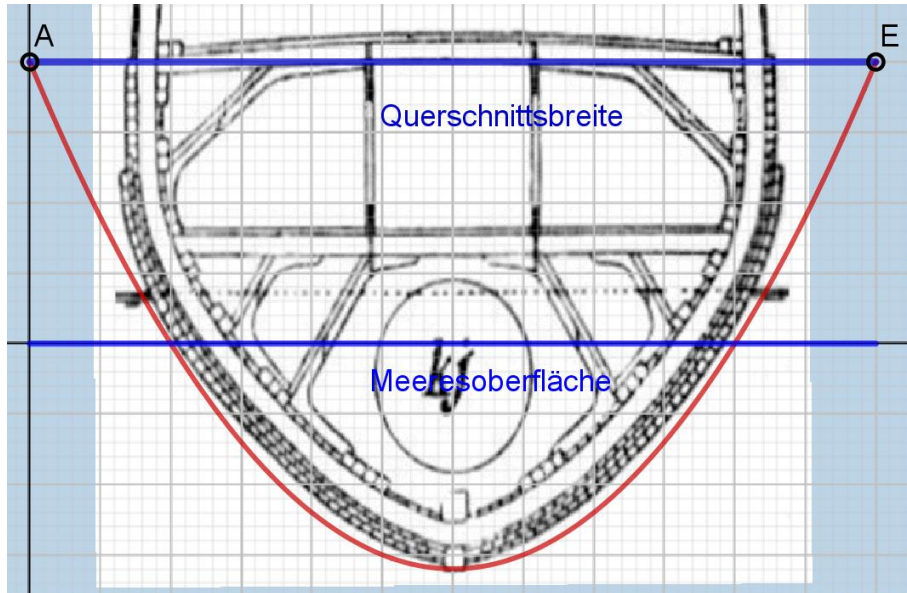
$$\rightarrow |x| = 12 \pm \sqrt{144 - 80} = 12 \pm 8 \rightarrow x_1 = 4 \wedge x_2 = 20$$

$$\rightarrow \text{Querschnittlänge: } 16[m]$$

$$b(0) = 8 \rightarrow 8 = \frac{1}{10}x^2 - 2,4x + 8 \rightarrow \frac{1}{10}x^2 - 2,4x = 0 \rightarrow \left(\frac{1}{10}x - 2,4\right)x = 0 \rightarrow x = 24$$

$$\rightarrow \text{Querschnittsbreite: } 24[m]$$

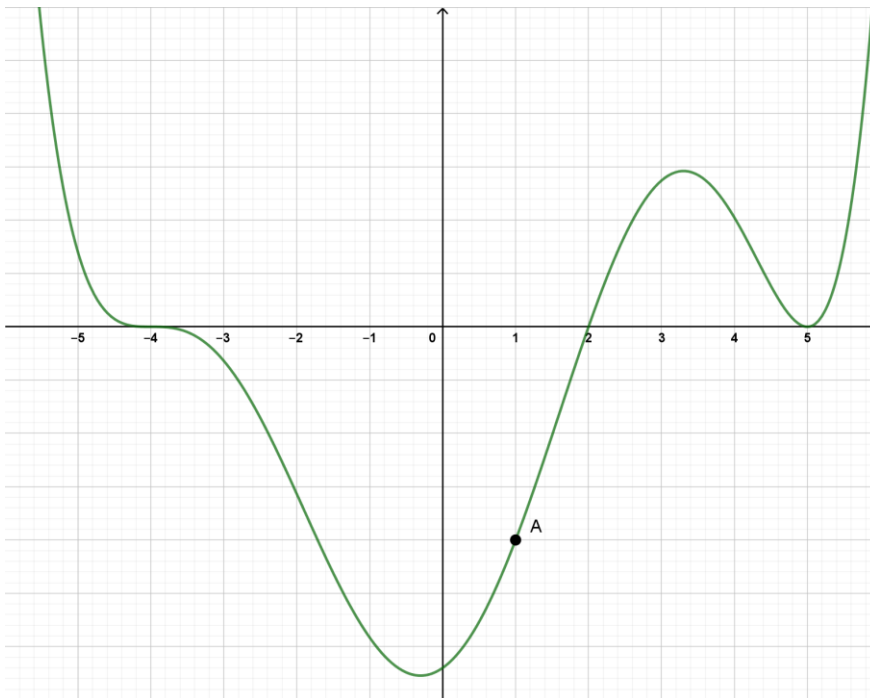
$$\text{Untiefe: } b(12) = \frac{1}{10} \cdot 12^2 - 2,4 \cdot 12 + 8 \rightarrow b(12) = -6,40 > 7$$



7.) Funktion aus gegebenem Graphen bestimmen

10	
----	--

Gegeben ist der Graph einer ganzrationalen Funktion:




- a) Ermitteln Sie die Funktionsvorschrift aus dem Graphen in der Linearfaktordarstellung, wenn zudem bekannt ist, dass gilt: $f(x_A) = -200$
- b) An welcher Stelle schneidet der Graph die y-Achse?

LÖSUNG:

$$f(x) = c \cdot (x+4)^3 \cdot (x-2) \cdot (x-5)^2 \rightarrow f(1) = c \cdot (1+4)^3 \cdot (1-2) \cdot (1-5)^2 = -200$$

$$\rightarrow c \cdot 125 \cdot (-1) \cdot 16 = -200 \rightarrow c = \frac{200}{125 \cdot 16} = \frac{1}{10}$$

$$f(x) = \frac{1}{10} \cdot (x+4)^3 \cdot (x-2) \cdot (x-5)^2 \rightarrow f(0) = \frac{1}{10} \cdot (0+4)^3 \cdot (0-2) \cdot (0-5)^2 = 6,4 \cdot (-50) = -320$$

A	Bestimmen Sie die Lösungen ohne Lösungsformel: a) $7x \cdot (2x - 8) = 0$ b) $(x + 3) \cdot (x - 2) = 0$ c) $(x + 1)^2 = 0$ d) $\frac{17}{3} \cdot (z^2 - 121) = 0$ e) $x^2 - 3x = 0$ f) $5x^2 + 25x = x^2 - 3x$	a) $x = 0$; $x = 4$ b) $x = -3$; $x = 2$ c) $x = -1$ (doppelt) d) $x = 11$; $x = -11$ e) $x = 0$; $x = 3$ f) $x = 0$; $x = -7$
B	Formulieren Sie eine möglichst einfache quadratische Gleichung mit den Lösungen 3 und -7. <i>Ansatz:</i> $f(x) = (x - 3) \cdot (x + 7) \rightarrow f(x) = x^2 + 4x - 21$	
C	Subtrahiert man vom fünffachen Quadrat einer Zahl ihr Zehnfaches, so erhält man als Ergebnis Null. Wie heißen mögliche Zahlen? <i>Ansatz:</i> $5x^2 - 10x = 0 \rightarrow (5x - 10)x = 0 \rightarrow x = 0 \wedge x = 2$	
D	<div style="display: flex; align-items: center; justify-content: center;"> <div style="text-align: center; margin-right: 20px;"> <p>a (in cm)</p>  </div> <div style="margin-right: 20px;"> <p>a - 2 (in cm)</p> </div> <div style="border: 1px solid black; padding: 10px; width: 300px;"> <p>Der Flächeninhalt des Rechtecks beträgt $29,25\text{cm}^2$.</p> <p>Wie lang sind die beiden Seiten? Ermitteln Sie die Länge der Diagonalen.</p> </div> </div> <p><i>Ansatz:</i> $f(a) = a \cdot (a - 2) = 29,25 \rightarrow a = \frac{13}{2} \rightarrow a - 2 = \frac{9}{2}$</p> <p><i>Diagonale:</i> $d^2 = \left(\frac{13}{2}\right)^2 + \left(\frac{9}{2}\right)^2 \rightarrow d^2 = \frac{169 + 81}{4} = \frac{250}{4} \rightarrow d = \sqrt{62,5}$</p> <p>Oder:</p> <p>E Ein Quader mit quadratischer Grundfläche hat eine Höhe von 3cm und ein Volumen von 108cm^3. Wie lang ist eine Kante der Grundfläche?</p> <p>$V(x) = x^2 \cdot 3 = 108 \rightarrow x^2 = 36 \rightarrow x = 6$</p>	