

Übung zur Kurvendiskussion (Lösungen)

Aufgabe 1: Abschnittsweise bzw. stückweise definierte Funktionen

$$f(x) = \begin{cases} x^2 - 2x & \text{für } x \geq -1 \\ -4x - 1 & \text{für } x < -1 \end{cases}$$

- Untersuchen sie die Funktion $f(x)$ auf Stetigkeit und Differenzierbarkeit an der Stelle $x = -1$
- Zeichnen sie den Graphen der Funktion.
- Welche Steigung hat die Funktion für $x = 0$?

Lösung:

a)

Stetigkeit:

$$\lim_{\substack{x \rightarrow -1+h \\ h \rightarrow 0}} (x^2 - 2x) = \lim_{h \rightarrow 0} [(-1+h)^2 - 2(-1+h)] = \lim_{h \rightarrow 0} [1 - 2h + h^2 + 2 - 2h]$$

$$\lim_{\substack{x \rightarrow -1+h \\ h \rightarrow 0}} (x^2 - 2x) = \lim_{h \rightarrow 0} [3 - 4h + h^2] = 3$$

$$\lim_{\substack{x \rightarrow -1-h \\ h \rightarrow 0}} (-4x - 1) = \lim_{h \rightarrow 0} [-4(-1-h) - 1] = \lim_{h \rightarrow 0} [4 + h - 1] = 3$$

\Rightarrow stetig

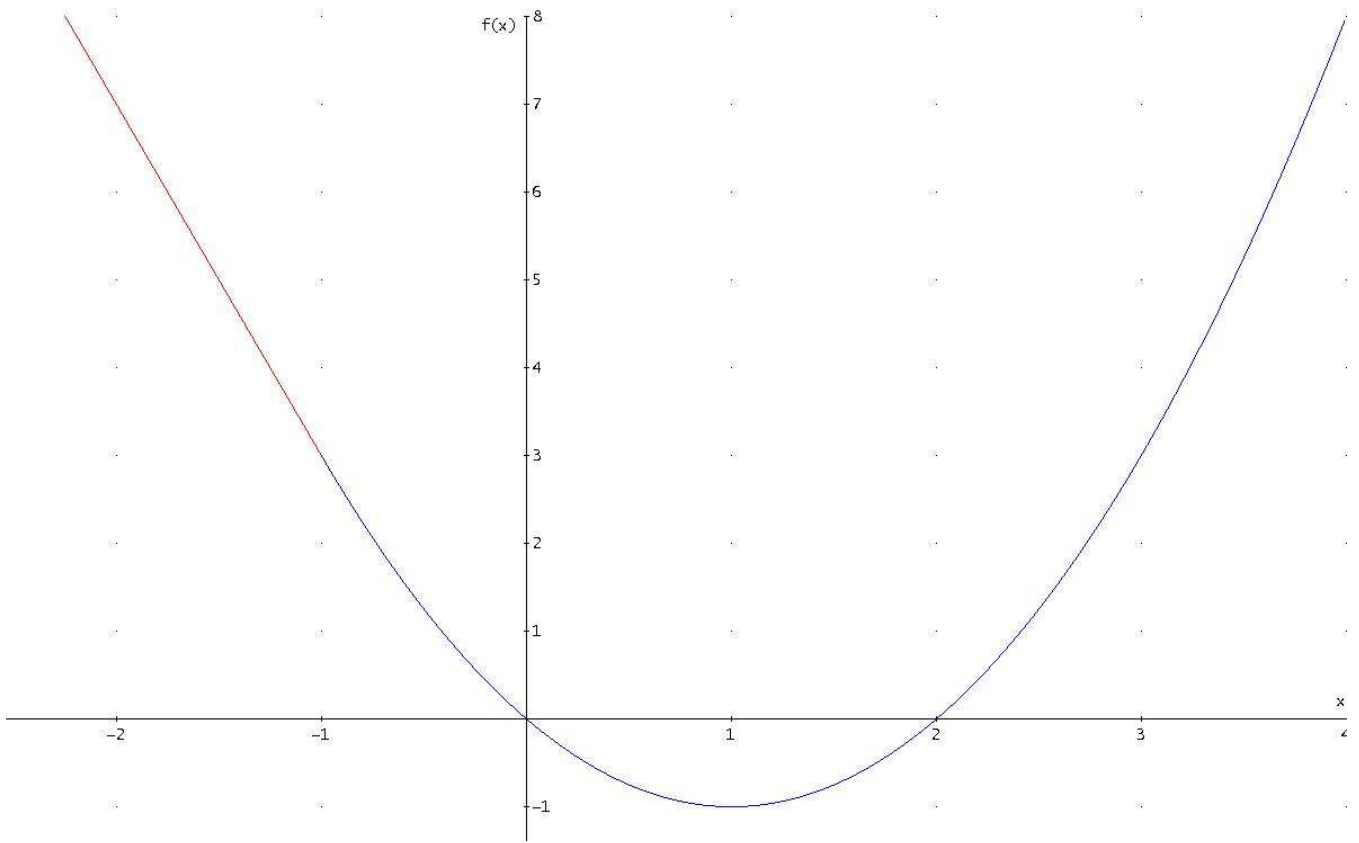
Differenzierbarkeit:

$$\begin{aligned} \lim_{h \rightarrow 0} \frac{[(-1+h)^2 - 2(-1+h)] - [(-1)^2 - 2 \cdot (-1)]}{h} &= \lim_{h \rightarrow 0} \frac{[1 - 2h + h^2 + 2 - 2h] - 3}{h} \\ &= \lim_{h \rightarrow 0} \frac{3 - 4h + h^2 - 3}{h} = \lim_{h \rightarrow 0} \frac{-4h + h^2}{h} = \lim_{h \rightarrow 0^+} \frac{h(-4 + h)}{h} = \lim_{h \rightarrow 0} (-4 + h) = (-4) \end{aligned}$$

$$\begin{aligned} \lim_{h \rightarrow 0} \frac{[-4(-1-h) - 1] - [-4 \cdot (-1) - 1]}{(-1-h) - (-1)} &= \lim_{h \rightarrow 0} \frac{[4 + 4h - 1] - 3}{-h} \\ &= \lim_{h \rightarrow 0} \frac{3 + 4h - 3}{-h} = \lim_{h \rightarrow 0} \frac{4h}{-h} = \lim_{h \rightarrow 0} (-4) = (-4) \end{aligned}$$

\Rightarrow differenzierbar

b)



c) $f'(x) = 2x - 2 \Rightarrow f'(0) = -2$

Aufgabe 2: Schnittpunkte von Funktionen

Gegeben sind die Funktionen $h(x) = x^2 + 2x$ und $m(x) = x^3 + x + 1$

Untersuchen sie die beiden Kurven auf gemeinsame Punkte.

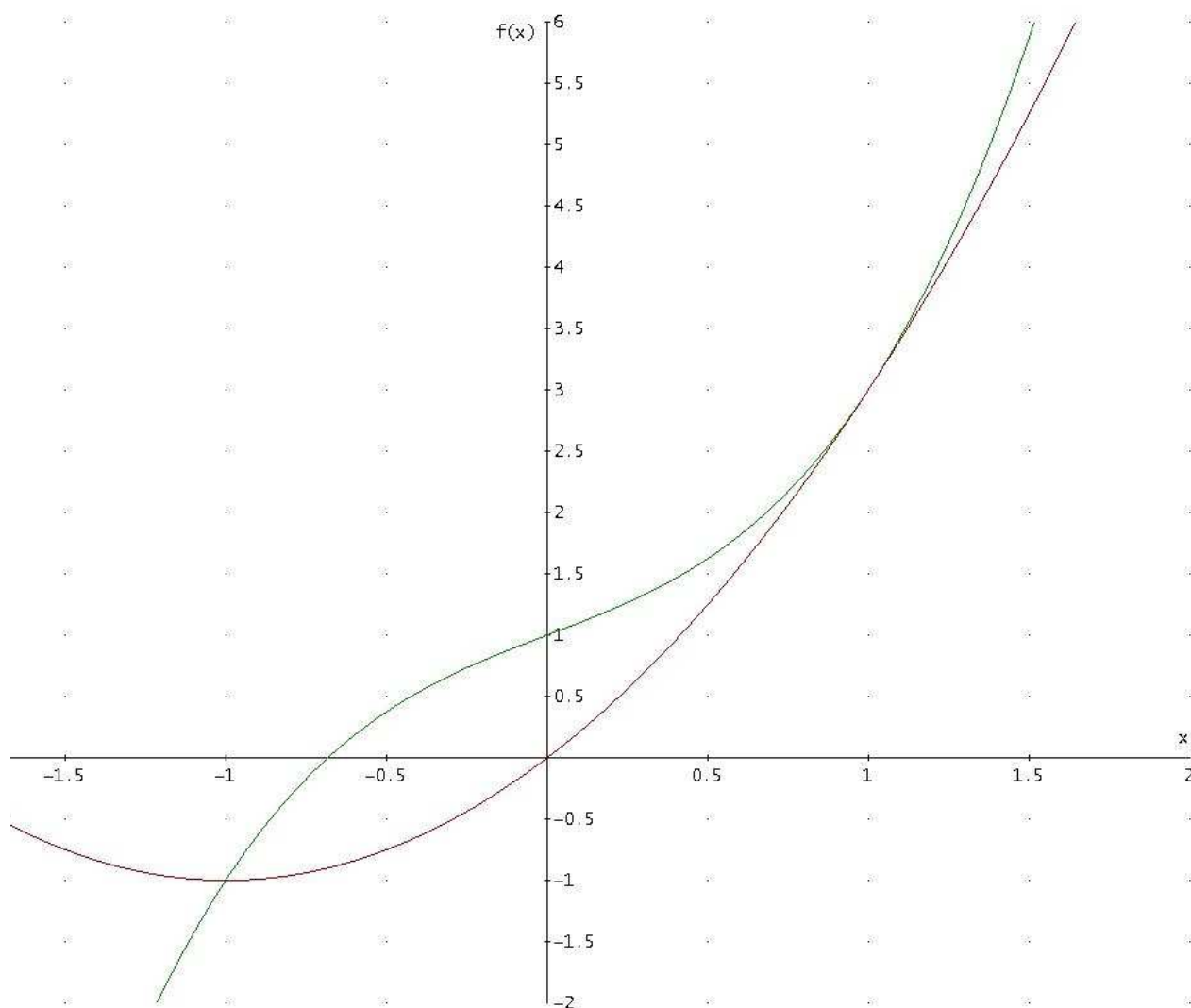
Lösung:

$$h(x) = m(x) \Rightarrow x^2 + 2x = x^3 + x + 1 \Rightarrow x^3 - x^2 - x + 1 = 0$$

$$\Rightarrow x_1 = 1 \xrightarrow[\text{Polynomdivision}]{\text{Horner-Schema}} x^2 - 1 = 0 \Rightarrow x_{2/3} = \pm 1$$

$$L = \{-1; 1\}$$

vergleiche auch die graphische Veranschaulichung:



Aufgabe 3: Gegeben sei die Funktion $g(x) = \frac{1}{x} - 2x$

- Bestimmen sie den Definitionsbereich und die Nullstellen der Kurve.
- Welches Symmetrieverhalten weist die Funktion auf.

Lösung:

Definitionsbereich: $D = \mathbb{R} \setminus \{0\}$

Nullstellen:

$$\frac{1}{x} - 2x = 0 \xrightarrow{\cdot x} 1 - 2x^2 = 0 \Rightarrow x^2 = \frac{1}{2} \Rightarrow |x| = \sqrt{\frac{1}{2}}$$

Symmetrieverhalten:

$$g(-x) = \frac{1}{(-x)} - 2(-x) = -\frac{1}{x} + 2x = -g(x) \Rightarrow \text{Punktsymmetrie}$$

Aufgabe 4: Kurvendiskussion

Nehmen Sie die Funktion $f(x) = x^4 - 2x^3 + 2x - 1$ und untersuchen Sie.

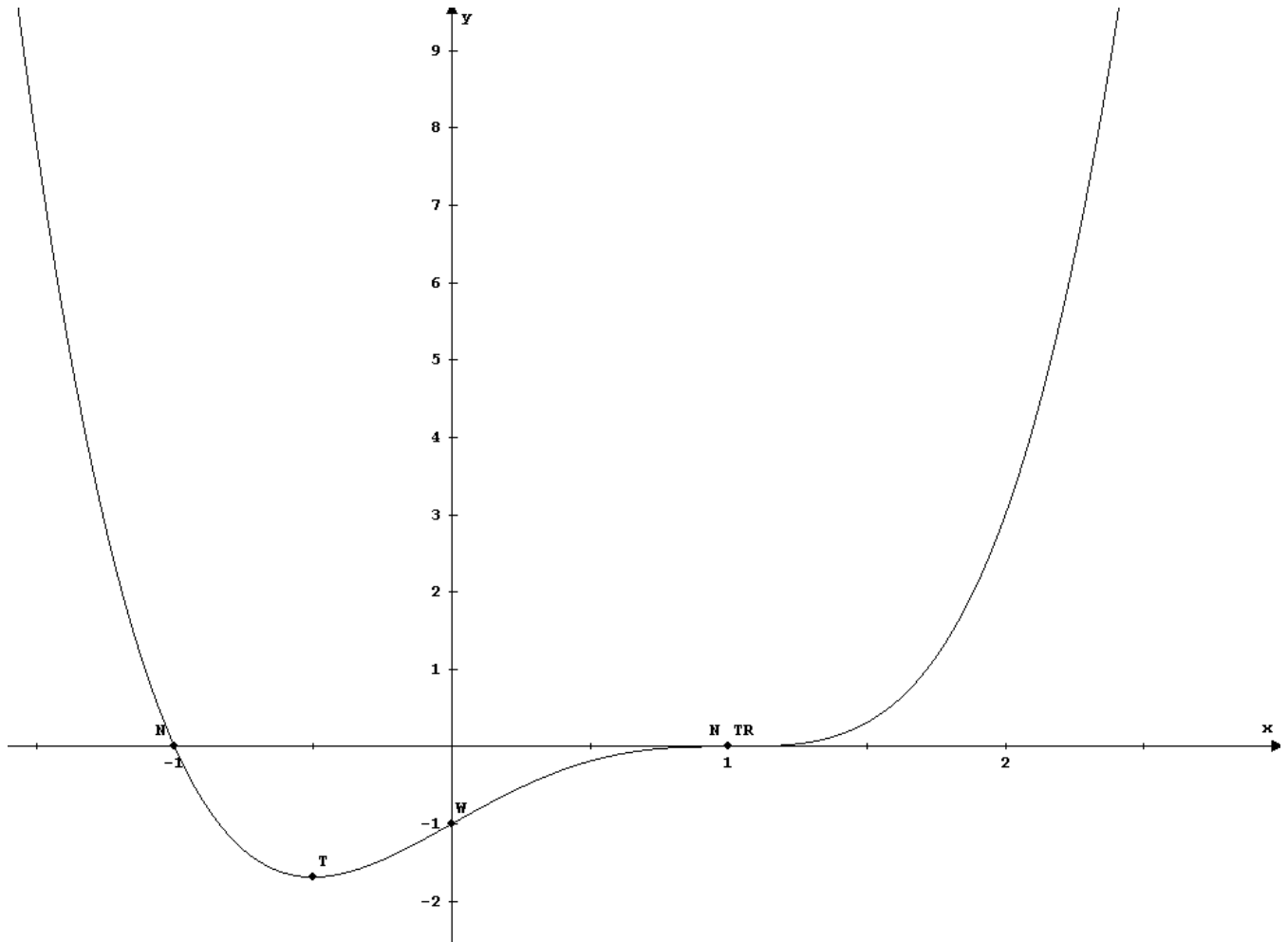
- Definitionsbereich
- Symmetrieverhalten
- Nullstellen
- Bestimmen sie Art und Lage der Extremwerte.
- Ermitteln sie die Wendepunkte.
- Wie lauten die Gleichungen der Wendetangenten?
- Wie verhält sich die Funktion an den Rändern ($\pm \infty$)?
- Wie lautet die Tangenten- und die Normalengleichung im Punkt P(0/?)
- Skizzieren aufgrund ihrer Ergebnisse den Graphen der Funktion.

Lösung:

Definitionsbereich: $D = \mathbb{R}$

Symmetrieverhalten:

$$\begin{aligned} f(-x) &= (-x)^4 - 2(-x)^3 + 2(-x) - 1 \\ &= x^4 + 2x^3 - 2x - 1 \neq f(x) \text{ und } -f(x) \Rightarrow \text{keine Symmetrie} \end{aligned}$$



Schnittpunkte mit der x-Achse	Hoch- und Tiefpunkte	Wendepunkte
$N(-1.00 0.00) \quad m = -8.00$ $N(1.00 0.00) \quad m = 0.00$	$T(-0.50 -1.69) \quad m = 0.00$	$W(0.00 -1.00) \quad m = 2.00$ $TR(1.00 0.00) \quad m = 0.00$

Wendetangente $W_1(0 \mid -1)$ mit $m = 2$

$$t_{w_1}(x) = 2x - 1$$

Wendetangente $W_2(1 \mid 0)$ mit $m = 0$

$$t_{w_2}(x) = 0 \Leftrightarrow x - \text{Achse}$$

Grenzwerte an den Rändern des Definitionsbereichs:

$$\lim_{x \rightarrow \pm\infty} f(x) = \lim_{x \rightarrow \pm\infty} (x^4 - 2x^3 + 2x - 1) = \infty$$

Tangente und Normale im Punkt $(0 \mid ?) \Rightarrow$ *Wendepunkt*

$$\Rightarrow \text{Wendetangente } W_1(0 \mid -1) \text{ mit } m = 2 \Rightarrow t_{w_1}(x) = 2x - 1$$

Wendenormale:

$$m_{\text{Normale}} = -\frac{1}{2} \xrightarrow{\text{y-Achsenabschnitt}} (-1) = \left(-\frac{1}{2}\right) \cdot 0 + b \Rightarrow b = (-1)$$

$$\Rightarrow t_{\text{Normale}}(x) = \left(-\frac{1}{2}\right)x - 1$$

Analoges Vorgehen: $g(x) = \frac{1}{5}x^4 - x^3 + x^2 - x + \frac{4}{5}$

$$k(x) = x^3 + 0,5x^2 - 4x - 2$$